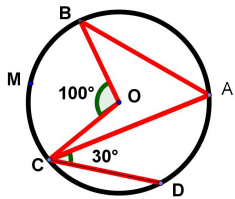


### Exercice :

ABCD est un quadrilatère inscrit dans le cercle (C) de centre O, le point M est le milieu de  $\widehat{BC}$  tels que :

$$mes\widehat{ACD} = 30^\circ \text{ et } mes\widehat{BOC} = 100^\circ$$



**Q1 :** Calculer  $mes\widehat{DOA}$  et  $mes\widehat{BAC}$

**Q2 :** Calculer  $mes\widehat{BMC}$

**R1 :** L'angle  $\widehat{DOA}$  est un angle au centre interceptant l'arc  $\widehat{AD}$  et  $\widehat{DCA}$  est un angle inscrit interceptant le même arc. On a :

$$mes\widehat{DOA} = 2mes\widehat{DCA} \text{ Soit } mes\widehat{DOA} = 2 \times 30^\circ = 60^\circ$$

De même  $\widehat{BAC}$  est un angle inscrit interceptant l'arc  $\widehat{BC}$  et  $\widehat{BOC}$  est un angle au centre interceptant le même arc.

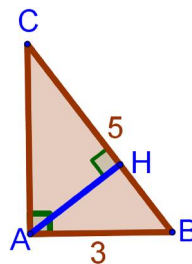
$$mes\widehat{BAC} = \frac{1}{2} \times mes\widehat{BOC} \text{ Soit } mes\widehat{BAC} = \frac{1}{2} \times 100^\circ = 50^\circ$$

**R2 :**  $\widehat{BMC}$  est un angle inscrit interceptant le grand arc  $\widehat{BC}$  et  $\widehat{BOC}$  est un angle au centre interceptant l'arc  $\widehat{BC}$

$$\text{On a : } mes\widehat{BMC} = 180^\circ - \frac{1}{2}mes\widehat{BOC} = 180^\circ - 50^\circ = 130^\circ$$

### RÉVISION RAPIDE

**Exercice1 :** On considère le triangle ABC de la figure ci-dessous rectangle en A. H est le pied de la hauteur issue de A.



**Q1 :** Calculer la valeur exacte du cosinus de l'angle  $\widehat{ABC}$

**Q2 :** Calculer la longueur du segment [BH].

**R1 :** Dans le triangle ABC rectangle en A, l'angle en B est un angle aigu ; On a :

$$\cos(\widehat{ABC}) = \frac{AB}{BC} = \frac{3}{5}$$

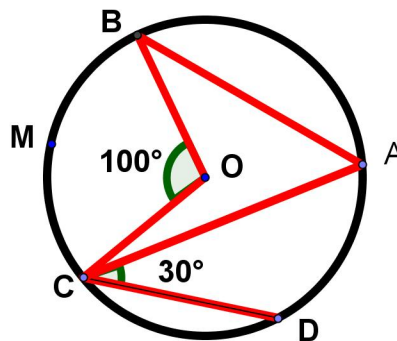
**R2 :** Considérons maintenant le triangle AHB rectangle en H. Les angles en B des triangles ABH et ABC sont égaux ; On a alors

$$\cos(\widehat{ABH}) = \frac{HB}{AB} = \frac{3}{5} \text{ soit } HB = \frac{3AB}{5} = \frac{9}{5}$$

### RÉVISION RAPIDE

### Exercice :

On reprend la figure de l'exercice précédent



**Q1 :** Que représente la droite (AM) pour l'angle  $\widehat{BAC}$

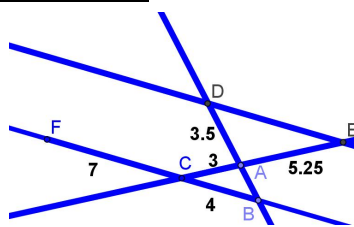
**Q2 :** Démontrer que  $mes\widehat{BAM} = mes\widehat{MAC}$

**R1 :** Les arcs  $\widehat{BM}$  et  $\widehat{CM}$  ont même mesure. La droite (AM) est donc la bissectrice de l'angle  $\widehat{BAC}$

**R2 :** La bissectrice (AM) partage l'angle  $\widehat{BAC}$  en 2 angles de même mesure. On a :  $mes\widehat{BAM} = mes\widehat{MAC}$

### RÉVISION RAPIDE

**Exercice1 :** On considère la figure ci dessous.



- \* Les points F, C et B sont alignés dans cet ordre
- \* Les segments [CE] et [BD] se coupent au point A;
- \* Les droites (BC) et (DE) sont parallèles.

**Q :** Démontrer que  $AB = 2$  et  $DE = 7$

**R :** Considérons les 3 points non alignés A, B et C. On a :  $E \in (AC)$  et  $D \in (AB)$  tel que  $(BC) \parallel (DE)$ . D'après la propriété de Thalès on a :

$$\frac{AC}{AE} = \frac{AB}{AD} = \frac{BC}{DE}$$

$\Rightarrow$  Calculons AB

$$\frac{AC}{AE} = \frac{AB}{AD} \Rightarrow \frac{3}{5.25} = \frac{AB}{3.5} \text{ soit } AB = \frac{3 \times 3.5}{5.25} = \frac{10.5}{5.25} = 2$$

$\Rightarrow$  Calculons DE

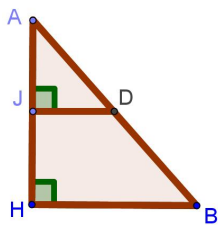
$$\frac{AC}{AE} = \frac{BC}{DE} \Rightarrow \frac{3}{5.25} = \frac{4}{DE} \text{ soit } 3 \times DE = 4 \times 5.25 \Rightarrow DE = \frac{4 \times 5.25}{3}$$

$$DE = \frac{21}{3} = 7$$

## RÉVISION RAPIDE

4

### Exercice :



Considerer l' esquisse ci-dessous :

- 1/ Démontrer que  $(DJ) \parallel (BH)$  .
- 2/ Démontrer que :  $\widehat{mes ADJ} = \widehat{mes ABH}$
- 3/ Démontrer que les triangles ADJ et AHB sont semblables .
- 4/ Sachant que la surface du triangle ABH est égale a  $98cm^2$  et que  $\frac{AD}{AB} = \frac{5}{7} = 0.7$  déduire la surface du triangle ADJ .

triangle ADJ .

### Résolution :

1. Avec le codage, on a :  $(DJ) \perp (AH)$  et  $(BH) \perp (AH)$ . On  $\widehat{ADJ}$  et  $\widehat{ABH}$  peut donc conclure que  $(DJ) \parallel (AH)$
2. sont des angles correspondants formés par les droites (DJ) et (BH). Or  $(DJ) \parallel (BH)$  donc  $\widehat{mes ADJ} = \widehat{mes ABH}$

3.  $\widehat{mes DAJ} = \widehat{mes BAH}$  Les angles des triangles ADJ et AHB sont égaux.  
 $\widehat{mes DJA} = \widehat{mes BHA} = 90^\circ$  ADJ et AHB sont donc semblables

4. ADJ et AHB étant semblables, on a :

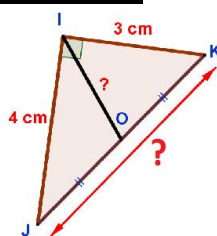
$$A_{ADJ} = k^2 \times A_{ABH} \text{ avec } k = \frac{5}{7}$$

$$A_{ADJ} = \left(\frac{5}{7}\right)^2 \times 98 = \frac{25}{49} \times 98 = 50cm^2$$

## RÉVISION RAPIDE

8

**Exercice1 :** On considère la figure codée suivante.



**Q1 :** Calculer la longueur du coté JK

**Q2 :** Calculer OI

**R1 :** Le codage de la figure révèle que le triangle IJK étant rectangle en I, on a d'après la propriété de Pythagore :

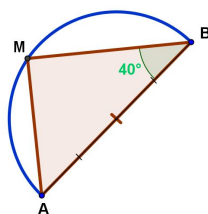
$$IJ^2 + IK^2 = JK^2 \text{ soit } JK^2 = 4^2 + 3^2 = 9 + 16 = 25.$$

Donc  $JK = 5$  cm.

**R2 :** IJK est rectangle en I et l'hypoténuse JK a pour milieu O. D'après une des propriétés du triangle rectangle, O est donc le centre du cercle circonscrit au triangle IJK. On a  $OI = OJ$ .

Or  $OJ = \frac{JK}{2} = \frac{5}{2}$  d'où  $OI = \frac{5}{2}$

**Exercice2 :** Soit la figure suivante :



**Q1 :** Quelle est la nature du triangle AMB ?

**Q2 :** Calculer la mesure de l'angle MAB

**R1 :** Le triangle AMB est inscrit dans le demi cercle et son coté AB est un diamètre de ce demi cercle. D'après une propriété des triangles rectangles, AMB est

rectangle en M .

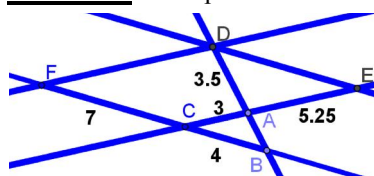
**R2 :** Les angles ABM et MAB sont complémentaires.

soit  $\widehat{mes MAB} = 90^\circ - \widehat{mes MBA}$   $\widehat{mes MAB} = 50^\circ$

## RÉVISION RAPIDE

2

**Exercice:** On reprend l'exercice précédent .



\*  $AB = 2$  et  $DE = 7$

**Q :** Démontrer que (AC) et (DF) sont parallèles

**R :** Considérons les 3 points non alignés A, B et C de la figure.  $F \in (BC)$  et  $D \in (AB)$  et F et D sont positionnés du même coté par rapport à (BC) et (AB).

D'une part on a :

$$\frac{BF}{BC} = \frac{BC + CF}{BC} = \frac{7 + 4}{4} = 2.25$$

Et d'autre part on a :

$$\frac{AD}{BA} = \frac{BA + AD}{BA} = \frac{2 + 3.5}{2} = 2.25$$

Nous remarquons donc que :

$$\frac{BF}{BC} = \frac{AD}{BA}$$

D'après la réciproque de la propriété de Thalès, nous pouvons donc conclure que les droites (AC) et (DF) sont parallèles.

## RÉVISION RAPIDE

6